
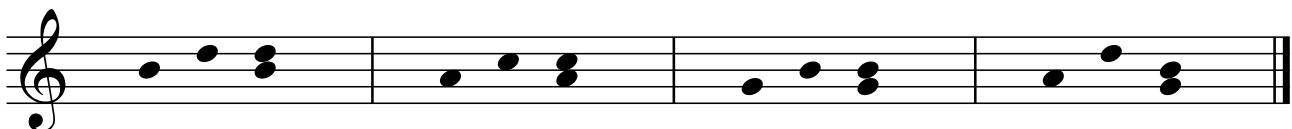

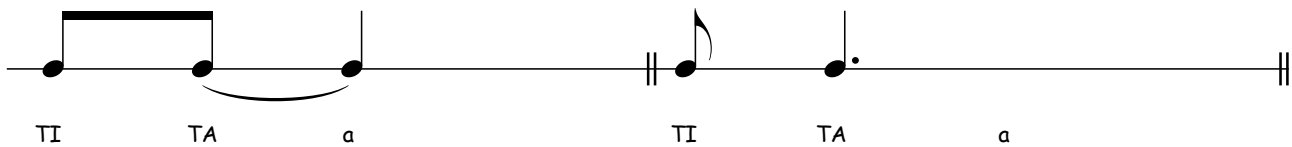
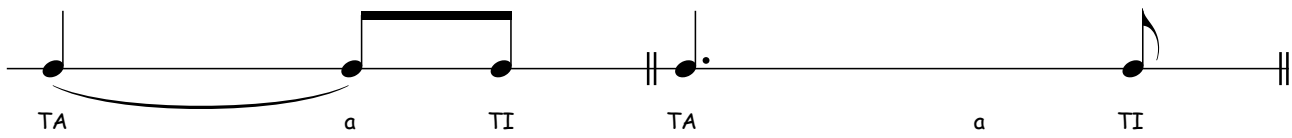


SEMIMINIMA CON IL PUNTO



La durata della semiminima con il punto corrisponde a quella di tre crome legate fra loro.



GIOCA CON DULCITA E PEPITO

1) La durata di una semiminima corrisponde a quella di due crome.

Vero Falso

2) La durata di una semiminima con il punto corrisponde a quella di tre crome.

Vero Falso

3) Quante sono le semiminime col punto nel Super Solfeggino?

7 8 10

4) Dopo la chiave di violino del Super Solfeggino c'è il segno #.

Come si chiama?

Diesis Bemolle Bequadro

5) Cerca un intervallo di quarta nel Super Solfeggino:

in quale misura si trova?

6) Copia due pentagrammi a piacere del Super Solfeggino facendo bene attenzione alla direzione dei gambi delle note.

7) Inserisci le stanghette di misura nei pentagrammi in basso:

